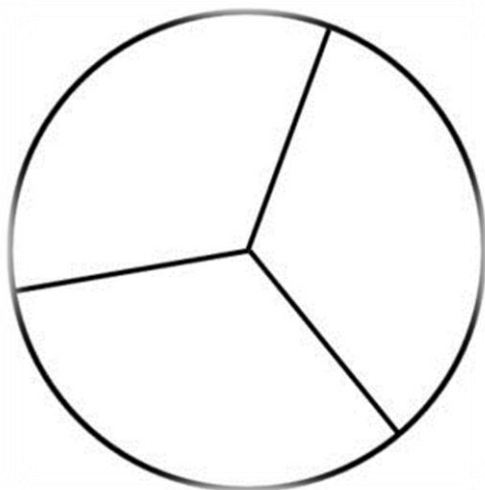



Nú ætlarðu að fá þér gómsætar pizzusneiðar en það á effir að setja álegg á þær. Pizzurnar hér fyrir neðan eru með mismargar sneiðar og við hliðina á pizzunum stendur hvað þú mátt fá margar sneiðar af hverri. Ein pizzan er t.d. með þrjár sneiðar og við hliðina á henni stendur  $2/3$ . Það þýðir að þú mátt borða tvær sneiðar af þeirri pizzu. Þú setur þá álegg á tvær sneiðar með því að teikna það og líta. Hvaða álegg vitlu á þínar pizzur?

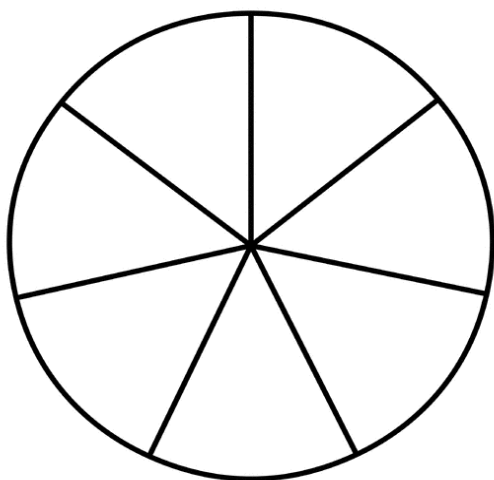
$2/3$



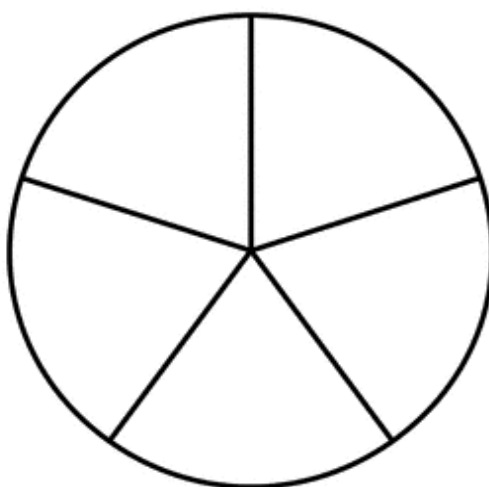
$3/4$



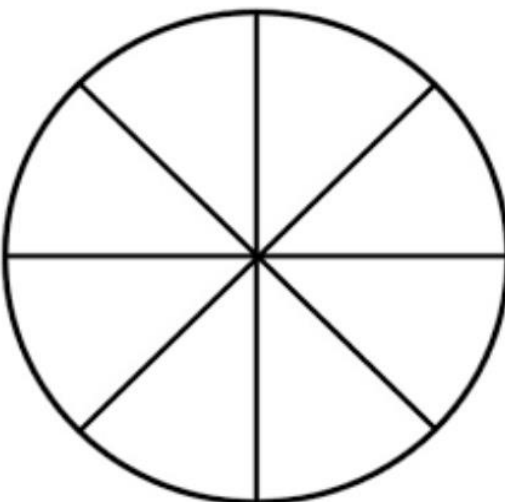
$6/7$



$4/5$



$5/8$



$1/2$

